


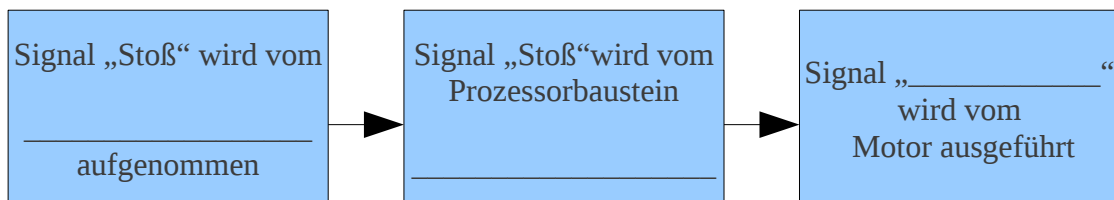
### Arbeitsblatt 3: „Eingabe, Verarbeitung, Ausgabe“

- Ergänze folgendes Schema um die Bezeichnung der Bauteile und die zugehörigen Begriffe „Eingabe, Verarbeitung und Ausgabe“

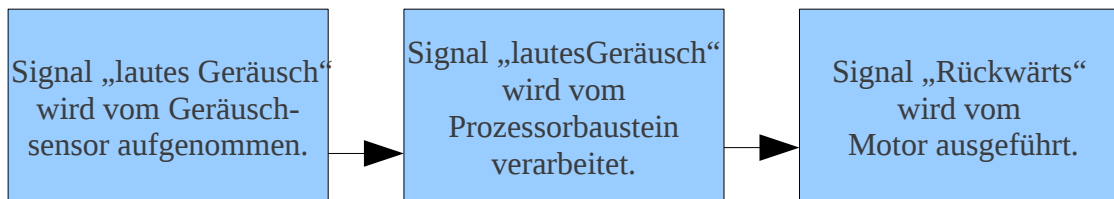


- „Der Roboter fährt so lange vorwärts, bis er an ein Hindernis kommt und dann bleibt er stehen.“

Ergänze folgendes Schaubild zu dieser umgangssprachlichen Aufgabenformulierung:



- Beschreibe umgangssprachlich folgendes Schaubild:



„Der Roboter fährt so lange vorwärts, bis...“

---



---



---